

# Aufgabenteil 1

Vorname: ..... Nachname: .....

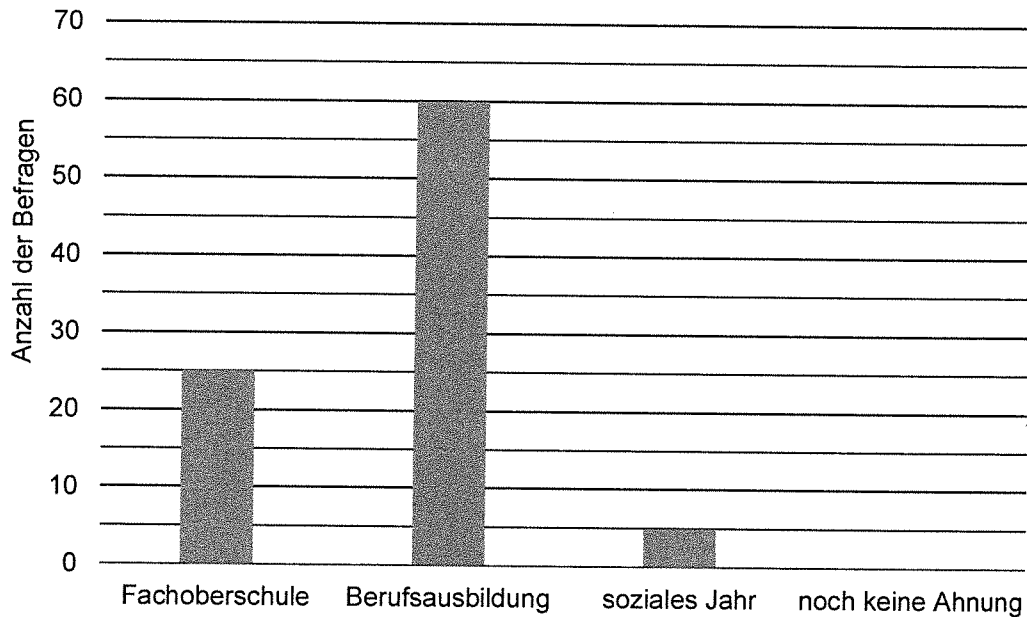
Arbeitszeit Teil 1:            30 Minuten

Maximale Punktzahl:        20 Punkte

Hilfsmittel:                 keine




- 4 An einer Schule wurden zu Beginn der 10. Klasse die Abschluss Schülerinnen und Abschluss Schüler befragt, was sie nach ihrer Schulzeit machen werden. Die Auswertung der Befragung wurde in einem Säulendiagramm dargestellt.



- 4.1 15 Befragte haben noch keine Ahnung, was sie am Ende der Schulzeit machen wollen. Ergänze im obigen Diagramm die fehlende Säule.


\_\_\_/1

- 4.2 Berechne die Anzahl der Befragten.



\_\_\_/1

- 4.3 Max möchte anhand der Umfrage wissen, wie viele Schülerinnen und Schüler eine Ausbildung zum Erzieher / zur Erzieherin machen wollen. Kann Max diese Information aus dem Diagramm ablesen? Begründe deine Entscheidung.



\_\_\_/1



